














Meno a priezvisko :

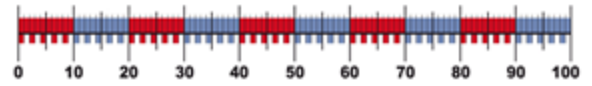
Dátum: 18. I. 2018

Počet bodov: 70b.	Percento zvládnutia:	Hodnotenie:
Počet získaných bodov:	%	

<p>Usporiadaj čísla od najväčšieho po najmenšie!</p> <p>83, 26, 69, 17, 34, 100, 51, 77</p> <table border="1" style="width: 100%; height: 30px; margin-top: 10px;"> <tr> <td style="width: 12.5%;"></td> <td style="width: 12.5%;"></td> <td style="width: 12.5%;"></td> <td style="width: 12.5%;"></td> <td style="width: 12.5%;"></td> <td style="width: 12.5%;"></td> <td style="width: 12.5%;"></td> <td style="width: 12.5%;"></td> </tr> </table> <p style="text-align: right;">8b.</p>									<p>Porovnaj! > = <</p> <table border="1" style="width: 100%; margin-top: 10px;"> <tr><td>56</td><td></td><td>65</td></tr> <tr><td>14</td><td></td><td>41</td></tr> <tr><td>88</td><td></td><td>89</td></tr> <tr><td>72</td><td></td><td>72</td></tr> <tr><td>43</td><td></td><td>27</td></tr> </table> <div style="text-align: right; margin-top: 20px;">  </div> <p style="text-align: right;">5b.</p>	56		65	14		41	88		89	72		72	43		27																											
56		65																																																	
14		41																																																	
88		89																																																	
72		72																																																	
43		27																																																	
<p>Vypočítaj súčet!</p> <table border="1" style="width: 100%; margin-top: 10px;"> <tr><td>20</td><td>+</td><td>6</td><td>=</td><td></td></tr> <tr><td>9</td><td>+</td><td>40</td><td>=</td><td></td></tr> <tr><td>50</td><td>+</td><td>30</td><td>=</td><td></td></tr> <tr><td>10</td><td>+</td><td>90</td><td>=</td><td></td></tr> <tr><td>20</td><td>+</td><td>50</td><td>=</td><td></td></tr> </table> <div style="text-align: center; margin-top: 20px;">  </div> <p style="text-align: right;">5b.</p>	20	+	6	=		9	+	40	=		50	+	30	=		10	+	90	=		20	+	50	=		<p>Vypočítaj rozdiel!</p> <table border="1" style="width: 100%; margin-top: 10px;"> <tr><td>80</td><td>-</td><td>60</td><td>=</td><td></td></tr> <tr><td>73</td><td>-</td><td>70</td><td>=</td><td></td></tr> <tr><td>50</td><td>-</td><td>20</td><td>=</td><td></td></tr> <tr><td>96</td><td>-</td><td>6</td><td>=</td><td></td></tr> <tr><td>49</td><td>-</td><td>40</td><td>=</td><td></td></tr> </table> <div style="text-align: right; margin-top: 20px;">  </div> <p style="text-align: right;">5b.</p>	80	-	60	=		73	-	70	=		50	-	20	=		96	-	6	=		49	-	40	=	
20	+	6	=																																																
9	+	40	=																																																
50	+	30	=																																																
10	+	90	=																																																
20	+	50	=																																																
80	-	60	=																																																
73	-	70	=																																																
50	-	20	=																																																
96	-	6	=																																																
49	-	40	=																																																
<p>Spočítaj eurá!</p> <div style="display: flex; justify-content: space-around; margin-top: 10px;">    </div> <div style="display: flex; justify-content: space-around; margin-top: 10px;">     </div> <div style="margin-top: 20px;"> <table border="1" style="width: 100%; height: 30px;"> <tr> <td style="width: 80%;"></td> <td style="text-align: right;">€</td> </tr> </table> </div> <p style="text-align: right;">2b.</p>		€	<p>Marek má 26 autíčok. Filip má 30 autíčok. Koľko autíčok majú chlapani spolu?</p> <p>Zápis:</p> <p>.....</p> <p>.....</p> <p>.....</p> <div style="text-align: right; margin-top: 20px;">  </div> <p>Výpočet: <table border="1" style="display: inline-table; width: 100px; height: 20px; vertical-align: middle;"><tr><td style="width: 25%;"></td><td style="width: 25%;"></td><td style="width: 25%;"></td><td style="width: 25%;"></td></tr></table></p> <p>Odpoveď:</p> <p style="text-align: right;">3b.</p>																																																
	€																																																		
<p>Napiš číslo <u>hned'</u> pred a <u>hned'</u> vzad!</p> <table border="1" style="width: 100%; margin-top: 10px;"> <tr><td style="width: 30%;"></td><td style="width: 30%; text-align: center;">49</td><td style="width: 30%;"></td></tr> <tr><td></td><td style="text-align: center;">64</td><td></td></tr> <tr><td></td><td style="text-align: center;">70</td><td></td></tr> <tr><td></td><td style="text-align: center;">37</td><td></td></tr> <tr><td></td><td style="text-align: center;">92</td><td></td></tr> </table> <div style="text-align: center; margin-top: 20px;">  </div> <p style="text-align: right;">10 b.</p>		49			64			70			37			92		<p>V košíku bolo 49 jahôd. Adam zjedol 9 jahôd. Koľko jahôd ostalo v košíku?</p> <p>Zápis:</p> <p>.....</p> <p>.....</p> <p>.....</p> <div style="text-align: right; margin-top: 20px;">  </div> <p>Výpočet: <table border="1" style="display: inline-table; width: 100px; height: 20px; vertical-align: middle;"><tr><td style="width: 25%;"></td><td style="width: 25%;"></td><td style="width: 25%;"></td><td style="width: 25%;"></td></tr></table></p> <p>Odpoveď:</p> <p style="text-align: right;">3b.</p>																																			
	49																																																		
	64																																																		
	70																																																		
	37																																																		
	92																																																		

Doplň číselné rady!

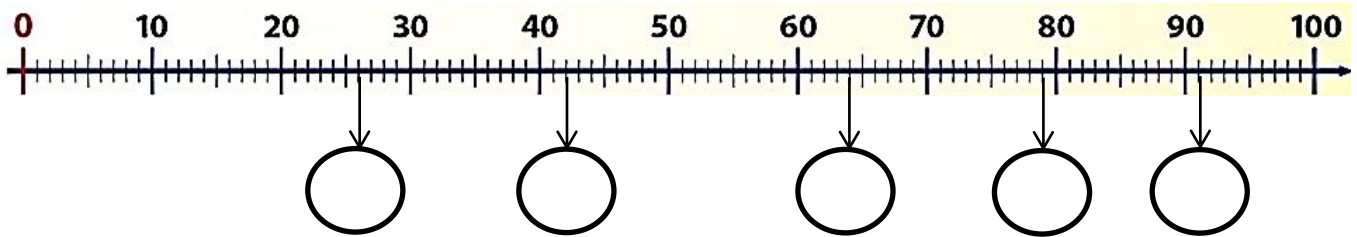
	83				87			
--	----	--	--	--	----	--	--	--



			44					39
--	--	--	----	--	--	--	--	----

16b.


Doplň číslo na číselnej osi!



5b.

GEOMETRIA

1. Narysuj priamku p !
2. Body K, L ležia na priamke p .
3. Body C, D neležia na priamke p .



Zakrúžkuj!

Na priamke p leží úsečka $/CD/$.

áno / nie

Na priamke p leží úsečka $/KL/$.

áno / nie

Body pomenúvame malými písanými písmenami.

áno / nie

8b.



Hodnotiaca tabuľka:

70 - 63b.	62 - 56b.	55 - 35b.	34 - 18b.	17 - 0b.
1	2	3	4	5